



INTENSIVE 精 course 讀

2023-24

優惠 1

新科報讀

減 \$200

新/舊生
適用

優惠 3

舊生報讀
精讀班 + 常規班

即減 \$200

舊生
適用

優惠 2

舊生帶新生

共減 \$500

新/舊生
適用

*優惠詳情請向報名處查詢



6515 0505

www.kge.hk

KGE hk

英皇教育

九龍灣校

EDB290211/290220

6515 0505

旺角校

EDB527904/527912

5222 5910

沙田校

EDB605000

5222 4058

荃灣校

EDB290211/290220

5222 3350

銅鑼灣校

EDB526789

5222 3140

元朗 特許上課點

(非報名中心)

EDB526978
5222 3350

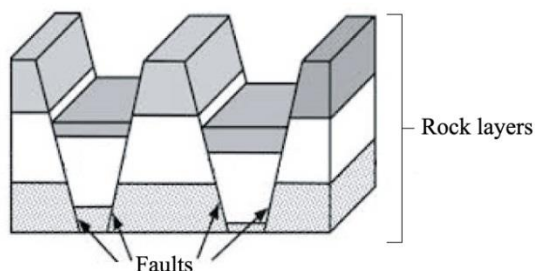
大埔 特許上課點

(非報名中心)

EDB610933
5222 4058

MC#1 PAPER 1 C1 卷一 C1

Refer to the figure below which shows faulting.

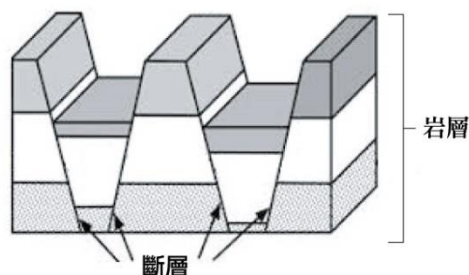


Which of the following is (are) the correct description(s) of the above figure?

- (1) occurrence of reverse fault
- (2) formed by normal force
- (3) horsts cannot be formed

- A. (1) only
- B. (2) only
- C. (1) and (3) only
- D. (2) and (3) only

參閱以下顯示斷層作用的圖片。




下列哪項是上圖的正確描述？

- (1) 出現逆斷層
- (2) 由張力形成
- (3) 未能形成地壘

- A. 只有(1)
- B. 只有(2)
- C. 只有(1)及(3)
- D. 只有(2)及(3)

MC#2 PAPER 1 C1 卷一 C1

Refer to the photograph below.



Which of the following pairs of comparison between material X and material Y related to volcanic activities in the photographs are correct?

	Material X	Material Y
(1) Type	pyroclastic flow	mudflow
(2) Dispersion	affected by wind direction	affected by surface runoff
(3) Dispersion	global cooling	loss of properties

- A. (1) and (2) only
- B. (1) and (3) only
- C. (2) and (3) only
- D. (1), (2) and (3)

參閱以下照片。



下列哪些有關照片中與火山活動有關的X物質與Y物質的比較是正確的？

	X物質	Y物質
(1) 類別	火山碎屑流	泥流
(2) 擴散	受風向所影響	受地表徑流所影響
(3) 影響	全球變冷	財產損失

- A. 只有(1)及(2)
- B. 只有(1)及(3)
- C. 只有(2)及(3)
- D. (1)、(2)及(3)

MC#3 PAPER 1 C2 卷一 C2

Which of the following comparisons between upper course and lower course is (are) correct?

	Upper Course	Lower Course
(1) Erosive Power	stronger	weaker
(2) Channel Depth	deeper	shallower
(3) Mean Velocity	lower	higher

- A. (1) only
 B. (3) only
 C. (1) and (2) only
 D. (2) and (3) only

下列哪項/哪些有關河流上游與下游的比較是正確的？

	上游	下游
(1) 侵蝕能力	較強	較弱
(2) 河道深度	較深	較淺
(3) 平均流速	較低	較高

- A. 只有(1)
 B. 只有(3)
 C. 只有(1)及(2)
 D. 只有(2)及(3)

MC#4 PAPER 1 C2 卷一 C2

Which of the following factors will increase the erosive power of the river at the middle course?

- (1) snowmelt at the upper course
 (2) rainstorm at the middle course
 (3) construction of HEP station at the upper course

- A. (1) only
 B. (1) and (2) only
 C. (2) and (3) only
 D. (1), (2) and (3)

下列哪些因素會增加中游的河流侵蝕能力？

- (1) 上游融雪
 (2) 於中游出現暴雨
 (3) 於上游建設水力發電站

- A. 只有(1)
 B. 只有(1)及(2)
 C. 只有(2)及(3)
 D. (1)、(2)及(3)

MC#5 PAPER 1 C5 卷一 C5

Refer to the photograph below.



Which of the following descriptions about the farming system shown in the above photograph are correct?

- (1) high labour productivity.
 (2) high yield per hectare.
 (3) low land input.

- A. (1) and (2) only
 B. (2) and (3) only
 C. (1) and (3) only
 D. (1), (2) and (3)

參閱以下照片。



下列哪些有關以上照片所示農業系統的描述是正確的？

- (1) 勞工生產力高
 (2) 每公頃產量高
 (3) 土地投入少

- A. 只有(1)及(2)
 B. 只有(2)及(3)
 C. 只有(1)及(3)
 D. (1)、(2)及(3)

多項選擇題 謬誤知識真偽辨別測試

(限時：每條約20秒)

哪句是對？哪句是錯？

YOUR ANSWER

圈出來吧



肯定正確



肯定錯誤

1

As the Pacific Plate as an oceanic crust is subducted under the South American Plate as a continental crust, the frequency of earthquake is very high in Chile in South America.

南美洲智利的地震頻仍，是由於屬海洋地殼的太平洋板塊俯衝至屬大陸地殼的南美洲板塊。

CORRECT

肯定正確

INCORRECT

肯定錯誤

2

The higher the bifurcation ratio, the higher the risk of flooding of the stream will be.

河流的分汙率越高，其氾濫的機會越大。

CORRECT

肯定正確

INCORRECT

肯定錯誤

3

The river valley at the lower course is in very wide U-shaped.

下游河谷的形狀呈非常闊U形。

CORRECT

肯定正確

INCORRECT

肯定錯誤

4

One of the major causes for the shift of iron and steel industries from raw material-orientation to market-orientation from 1980's is the environmental policies of the central government.

中國鋼鐵業八十年代起由原料導向改變為市場導向，其中一個原因是中央政府的環保政策。

CORRECT

肯定正確

INCORRECT

肯定錯誤

5

New town development is a part of urban sprawl in Hong Kong.

新市鎮的發展屬於香港城市延伸（城市蔓延）的一部分。

CORRECT

肯定正確

INCORRECT

肯定錯誤

6

New town development may control urban encroachment in certain extent.

新市鎮發展某程度上可能控制城市蠶食。

CORRECT

肯定正確

INCORRECT

肯定錯誤

多項選擇題 謬誤知識真偽辨別測試

(限時：每條約20秒)

哪句是對？哪句是錯？

YOUR ANSWER
圖出來吧



肯定正確



肯定錯誤

7

Farming constraints in the Southern California include infertile and saline soil, high evapotranspiration rate, water shortage and absence of streams.
南加州的農業限制包括貧瘠和鹽化的土壤、高蒸散率、缺水和缺乏河道存在。

CORRECT
肯定正確

INCORRECT
肯定錯誤

8

One of the environmental constraints for the limited growth of undergrowth in rainforests is waterlogging and infertile soil.
令底層植物有限生長的環境限制之中，其中一項是積水和貧瘠的土壤。

CORRECT
肯定正確

INCORRECT
肯定錯誤

9

The global dimming induced by air pollution offsets the increasing rate of global warming.
空氣污染引致的全球變暗抵銷了全球增溫的增幅。

CORRECT
肯定正確

INCORRECT
肯定錯誤

10

Overhead sun can possibly take place (be located) in Hong Kong.
當頭日能夠於香港出現。

CORRECT
肯定正確

INCORRECT
肯定錯誤

11

Duration of daylight in South China with high annual mean temperature is longer than that of in North China with lower annual mean temperature throughout the year.
華南的年平均溫度較高，它的日照時間全年均較年平均溫度較低的華北地區為長。

CORRECT
肯定正確

INCORRECT
肯定錯誤

12

Not 100% solar radiation (insolation) is absorbed by the earth's surface, as over half of the short-wave radiation is directly reflected to the space.
並非100%太陽輻射（日射）能夠被地球表面吸收，是因為有超過一半以上的短波輻射直接被反射回太空。

CORRECT
肯定正確

INCORRECT
肯定錯誤

《FBQ考察為本題能力測試》

你有信心取得題目的
全滿分嗎？YOUR STATUS
你的水平是？有信心
取得
全分可取得
>50%
分數只能取得
<50%
分數

1	Identify the sampling method (e.g. stratified sampling) the group members used shown in Figure 1a. Explain their choice on the sampling method. (4 marks) 辨別圖1a所顯示組員使用的抽樣方法(如：分層抽樣)。解釋他們抽樣方法的選擇。(4分)	4分 全取	2-3分	0-1分
2	What are the merits and demerits of using online map to study the distribution of farmlands in Kam Tin? (4 marks) 使用網上地圖去研究錦田耕地分佈時有哪些優點和缺點？(4分)	4分 全取	2-3分	0-1分
3	Explain how the group members can improve the validity and accuracy of this study on soil fertility of different farms. (6 marks) 解釋組員在研究不同農場的土壤肥沃度時如何改善其真實性及準確度？(6分)	6分 全取	3-5分	0-2分
4	Explain why the location shown in Figure 1a is suitable (or not suitable) for farming study. (4 marks) 解釋為什麼圖1a所顯示的區位適合(或不適合)作農業研究。(4分)	4分 全取	2-3分	0-1分
5	Why do the students use scatter diagram to show the correlation between the two variables instead of using Spearman's rank correlation coefficient? (4 marks) 為什麼同學使用散佈圖去顯示兩個變項的相關性，而不採用史皮爾曼相關係數？(4分)	4分 全取	2-3分	0-1分
6	Discuss how the choice of time, day and location by the students to carry out the fieldwork study may affect the reliability and feasibility of the farming study. (6 marks) 討論學生所選擇實地考察的時間、日子和區位如何可能影響農業研究的可靠度及可行性。(6分)	6分 全取	3-5分	0-2分
7	Suggest other instruments the students may use to take measurement on soil texture of farmlands. (3 marks) 建議學生可以使用其他哪些工具去量度耕地的土壤質地。(3分)	3分 全取	2-5分	0-1分
8	Using your geographical knowledge, explain the hypothesis (increasing abandoned farmlands from increasing distance from main roads) which has been accepted. (4 marks) 利用你的地理知識，解釋已被接納的假設(與公路主線距離越遠，棄耕地數量越多)。	4分 全取	2-3分	0-1分

SAMPLE

★PAPER D 丁部★

SHORT-ESSAY QUESTIONS 短文章式題目

卷一C1

Account for the similar distribution of strong earthquake and active volcanic eruption in the world. Discuss the role of the government of less developed countries in affecting vulnerability of population resided in the earthquake-prone regions.

說明全球強烈地震和活躍火山爆發的近似分佈。討論欠發達國家的政府對影響聚居在這些地震頻生地區人口的脆弱性的角色。

SAMPLE

★PAPER D 丁部★

SHORT-ESSAY QUESTIONS 短文章式題目

卷一C6

Describe the favourable environment for plantations and commercial cattle ranching in rainforests. Discuss why the interruption of the plantations on the nutrient cycle in rainforests is less severe than that of commercial cattle ranching.

描述有利雨林來進行大農場農業及商業性肉牛放牧的有利環境。討論為何大農場較商業性肉牛放牧對養分循環的的干擾相對較不嚴重。

SAMPLE

★PAPER D 丁部★

SHORT-ESSAY QUESTIONS 短文章式題目

卷二E1

Explain how the physical factors affect the distribution of landslides in Hong Kong. Evaluate the effectiveness of geotechnical engineering works in preventing their occurrence on natural slopes.

解釋自然因素如何影響山泥傾瀉在香港的分布。評估土力工程對阻止它們於自然坡面出現的效度。

SAMPLE

★PAPER D 丁部★

SHORT-ESSAY QUESTIONS 短文章式題目

卷二E4

Explain the relationship of these recent conflicts with economic reform policies and agricultural activities in the Zhujiang Delta in recent two decades. Discuss the effectiveness of the development of agricultural enterprises in alleviating these conflicts.

解釋近二十年珠江三角洲的經濟改革政策與農業活動的衝突。討論農業企業的發展對緩減以上衝突的效度。

欲獲取上述题目的詳盡建議答案 及其餘超過80條必中題目，
歡迎報讀 **INTENSIVE PLAN A** 2個月的課程。

INTENSIVE 皇牌課程

報 讀 指 南

一月
開始

S6
應屆考生
/重讀生

A
第一至四期

必報課程
INTENSIVE PLAN A

皇牌

精讀 (卷一必修+卷二選修)
貼題·應用·無敵技巧
ALL-IN-ONE課程

15堂送2堂
網上課堂

課程編號:
INTENSIVE
PLAN A

皇牌

S1

補充課程
INTENSIVE PLAN S
(第1期)

答題寫作技巧課程
ANSWERING WRITING SKILL

4堂

課程編號:
INTENSIVE
PLAN S 第一期

S2

補充課程
INTENSIVE PLAN S
(第2期)

地圖閱讀課程
MAP READING SKILL

6堂

課程編號:
INTENSIVE
PLAN S 第二期

Y

補充課程
INTENSIVE PLAN Y

E1 動態地球 Dynamic Earth
整全知識傳授·歷屆試題分析
REGULAR重溫版

9堂

課程編號:
INTENSIVE
PLAN Y

Y

補充課程
INTENSIVE PLAN Y

E2 天氣與氣候 Weather and Climate
整全知識傳授·歷屆試題分析
REGULAR重溫版

9堂

課程編號:
INTENSIVE
PLAN Y

Z

補充課程
INTENSIVE PLAN Z

E4 珠江三角洲區域研習
Regional Study of Zhujiang Delta
整全知識傳授·歷屆試題分析

4堂

課程編號:
INTENSIVE
PLAN Z

TITUS
CHAN

報讀
TITUS
課程
的原因

2
0
1
0
-
2
0
1
9



往年

成果有保證
百分百真實成績表

地理市場
真領導!

絕非「地理」+「通識」大合照
也絕不包括只應考模擬試的考生
獎學金準則較其他同科導師 **絕不相同**



TITUS地理真5/5*軍團##**

##以防有大型連鎖補習社地理科導師刊出的純地理科5**/5*5的獎學金大合照作比較。而根據大型連鎖補習社所發佈的宣傳單張，只有Titus Chan的獎學金大合照為純地理科5**/5*5的考生。



爆班
真與假



爆



爆



爆



爆



爆



“**爆班**源於口碑**勝**過別人!”

爆強
貼中

奪冠
豪表
團

有指每年貼中是因為TITUS
與**公開考試機構**舊同事
獲取**內幕情報**

請不要抹殺我本身
的教學能力及過往
所付出的努力!

擁有
極強戰績
的TITUS



皇牌

PLAN A 終極精讀 (第1至4期)

貼題 · 應用 · 無敵技巧 ALL-IN-ONE

約15堂
再加送2堂

要比較過，才補我！

COME ON JAMES,
你真心相信

最後1日 精華筆記
最後1小時 精華筆記
最後1分鐘 精華筆記
最後1秒鐘.....

不齊全內容無法應付MC知識DETAIL位，
也都漏的內容也絕不能讓你作答講求詳盡的ESSAY

對你考試有~~屁~~用？！

V.S.

THAT'S WHY 大量歷屆
TITUS DSE 門生 只靠

框架大全

便順利奪5/5*/5**而回！

瞞騙你的心理容易，真正了解你真正需要，非人人做到。



PLAN A 終極精讀(第1至4期)

貼題 · 應用 · 無敵技巧 ALL-IN-ONE

約15堂
再加送2堂

謬誤

MISCONCEPTION

· 詳列公開試MC陰人位 > 380項

95% TITUS 5**門生及
約96% TITUS 5** / 5*門生
均有報讀INTENSIVE

PLAN A全期#

時事

HOT ISSUE

TIP盡過往3年香港、中國及世界所有未出題的熱門時事

技能

ALL-ROUND SKILLS

註釋圖(ANNOTATED DIAGRAM)、照片詮釋、答題思維(吹水)、撞喺MC答案、統計圖繪畫及各項計數技能

框架

FRAMEWORK

TITUS著名框架思考法，減少背誦，陌生題目也可滿分

趨勢

TREND

· 大熱趨勢出題可能性
· DSE從未出過的POSSIBILITIES



***一次過報齊4期Intensive
限時優惠 \$2988**
(*詳情可到報名處查詢)

PLAN A 終極精讀 (第1至4期)

貼題 · 應用 · 無敵技巧 ALL-IN-ONE

約15堂
再加送2堂
網上課堂



一月下旬開課

LESSON 1-3

第一期



LESSON 4-7

第二期



LESSON 8-11

第三期



LESSON 12-16

第四期

一個價錢最多可選擇
兩個選修課題



四月中旬

FINAL 2 LESSONS

(最少約2.5-3小時)

FREE

C1	機會與風險	Opportunities and Risks	
C2	管理河流和海岸環境	Managing Rivers and Coastal Environments	
C3	轉變中的工業區位	Changing Industrial Location	
C4	可持續發展的城市	Building a Sustainable City	
C5	對抗饑荒	Combating Famine	
C6	消失中綠色樹冠	Disappearing Green Canopy	
C7	氣候變化	Climate Change	
E1	動態地球	Dynamic Earth	2堂
E2	天氣與氣候	Weather and Climate	2堂
E3	運輸	Transport	1堂
E4	珠江三角洲區域研習	Regional Study of Zhujiang (Pearl River) Delta	1堂
SKILL	統計學技巧大全 (必須要上)		1堂
	試前各項提示 (必須要上)		1堂

卷一
必修

卷二
選修

全卷
技巧



網上課堂1 終極SQ貼題選輯 (卷一及卷二)

網上課堂2 終極ESSAY貼題選輯 (卷一及卷二)



PLAN A 終極精讀 (第1至4期)

貼題 · 應用 · 無敵技巧 ALL-IN-ONE

約15堂
再加送2堂

獨家派發

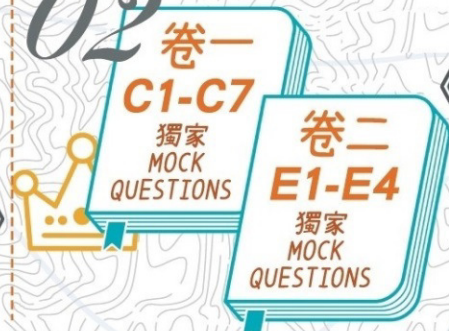
01



卷一
C1-C7
MC
謬誤大全

《公開試MC
陰人謬誤大全》
>380項

02



卷一
C1-C7
獨家
MOCK
QUESTIONS

卷二
E1-E4
獨家
MOCK
QUESTIONS

精製
《SQ+ESSAY
題目大全》
>80條

03



地理
統計學
技巧大全

《速畫統計圖畫
方法大全》
>12項
《統計計算技巧》
>10項

04



彩色照片
PHOTOGRAPH
詮釋大全

精選
Past
Paper
選輯

各課 >12項
《照片及衛星圖片詮釋
及辨別技能大全》
《精選大熱翻炒PAST
PAPER選輯》
11課

*一次過報齊4期Intensive

限時優惠 \$2988

(*詳情可到報名處查詢)

PLAN A 終極精讀 (第1至4期)

貼題 · 應用 · 無敵技巧 ALL-IN-ONE

約15堂
再加送2堂



各班長期 **爆滿**

往年精讀班各班爆滿，實力和口碑的見證！

INTENSIVE PLAN A

課程編號: G6GEOGTCU

分校	星期	上課時間	模式	開課日期	學費
旺角校 MK1A	FRI	5:55pm	L	19/1	第1期(3堂) \$645*
ONLINE VIDEO LEARNING PLATFORM (ONL)			ONLINE	由26/1開始	第2-4期(各4堂) \$860*

符號 L = Titus Chan全現場任教 (Live)
符號 ONL = 全Online課堂(Online Video Learning Platform)並由Titus Chan提供視像教材。
整期4堂筆記可在報名分校領取。由於筆記數量有限，如分校筆記已派完，同學可由報名日起約5日到報名分校取筆記，或申請順豐到付服務。詳情請向報名處查詢

***一次過報齊4期Intensive
限時優惠 \$2988**

(*詳情可到報名處查詢)



(*詳情可到報名處查詢)

S1 答題寫作技巧課程

ANSWERING WRITING SKILL

4堂

S2 MAP-READING地圖閱讀課程

6堂

7種題型。段落構造。
還原基本步。框架思考法

人家教你拆題下而上揣摩答案
我教你出題上而下掌握一切

只因

TITUS CHAN 為全行極罕有之曾任職公開考試機構
之補習導師，富深厚之擬卷和閱卷工作經驗

	TITUS CHAN 地圖閱讀課程	其他補習社名師 地圖閱讀課程
良心	附送彩色地圖達 60 張以上， 不必 另外購買習作！	家長及學生須自費近百元 購買習作
配套	13 項地圖閱讀技巧精華筆記 + 實戰 20 年 PAST PAPER	缺乏系統性筆記 只操近年 PAST PAPER
配套	由出卷過程推論出 高速做Map-reading MC 技能， 1條MC平均不必花超過30秒！	按每一步驟循規蹈矩教授 該題目繁複之處理方法

S1 答題寫作技巧課程

課程編號: G6GEO9TCS
(共4堂)

ONLINE VIDEO LEARNING
PLATFORM (ONL)

每堂視像教材，已經全數上載。
同學只須在取得筆記後，登入本校網站收看課堂。

\$860

S2 MAP-READING

課程編號: G6GEO9TCS
(共6堂)

VIDEO LEARNING PLATFORM
(VPS)

視像教材已經齊備。
同學可於報名時預約電腦補堂VPS，最快可於預約後
3個工作天於分校電腦進行課堂。

\$1290

符號 ONL = 全Online課堂(Online Video Learning Platform)並由Titus Chan提供視像教材。
整期4堂筆記可在報名分校領取。
由於筆記數量有限，如分校筆記已派完，同學可由報名日起約5日到報名分校取筆記，或申請順豐到付服務。詳情請
向報名處查詢

符號 VPS = 視像補堂(VPS)並由Titus Chan提供視像教材。
整期6堂筆記可在進行視像補堂時取得。



(*詳情可到報名處查詢)

與INTENSIVE PLAN A的
教授內容完全不同

PLAN Y 動態地球 Dynamic Earth

整全知識傳授 · 歷屆試題分析 · REGULAR重溫版

1
對象

沒有報讀TITUS常規E1課程的考生

2
對象

校內考試E1題目表現不理想的考生

3
對象

唔識寫E1的ESSAY的考生



派發

整全
精華筆記

歷屆試題
全集及
分析

SAMPLE
ESSAYS
由TITUS
親自編寫



2019年ESSAY試題：

描述沉積岩(sedimentary rocks)
轉變成變質岩(metamorphic rocks)，
你能夠抄教科書抄到6段出來嗎？

2019年ESSAY試題問及到植林(afforestation)
能否改善坡面穩定性，你能從坊間教科書或其他
補習社筆記找到6項或以上理據嗎？

Plan Y
動態地球

課程編號: G6GEO9TCY
(2期, 第1期4堂、第2期5堂)

ONLINE VIDEO LEARNING
PLATFORM (ONL)

每堂視像教材, 已經全數上載。
同學只須在取得筆記後, 登入本校網站收看課堂。

第1期4堂
\$860

第2期5堂
\$1075

符號 ONL = 全Online課堂(Online Video Learning Platform)並由Titus Chan提供視像教材。

整期4堂筆記可在報名分枝領取。

由於筆記數量有限, 如分校筆記已派完, 同學可由報名日起約5日到報名分枝取筆記, 或申請順豐到付服務。詳情請向報名處查詢



(*詳情可到報名處查詢)

與INTENSIVE PLAN A的
教授內容完全不同

PLAN Y 天氣與氣候 Weather and Climate

整全知識傳授 · 歷屆試題分析 · REGULAR重溫版

1
對象

沒有報讀TITUS常規E2課程的考生

2
對象

校內考試E2題目表現不理想的考生

3
對象

唔識寫E2啲ESSAY的考生



2018年ESSAY題目：

比較中國北部與南部的降雨特徵 - 你能在教科書找得6個比較點嗎？

派發

整全
精華筆記

歷屆試題
全集及
分析

SAMPLE
ESSAYS
由TITUS
親自編寫

Plan Y
天氣與氣候

課程編號: G6GEO9TCY
(2期, 第1期4堂、第2期5堂)

ONLINE VIDEO LEARNING
PLATFORM (ONL)

每堂視像教材, 已經全數上載。
同學只須在取得筆記後, 登入本校網站收看課堂。

第1期4堂
\$860

第2期5堂
\$1075

符號 ONL = 全Online課堂(Online Video Learning Platform)並由Titus Chan提供視像教材。

整期4堂筆記可在報名分校領取。

由於筆記數量有限, 如分校筆記已派完, 同學可由報名日起約5日到報名分校取筆記, 或申請順豐到付服務。詳情請向報名處查詢



舊生帶新生

舊生
減\$250
新生
減\$250

精讀班
+
報兩個PLAN

共減\$200 (*詳情可到報名處查詢)

ANSWER PART 1

MC #1	MC #2	MC #3
B	D	B

MC #4	MC #5
B	D

PART 2

#1	#2	#3	#4	#5	#6
INCORRECT	INCORRECT	INCORRECT	INCORRECT	INCORRECT	INCORRECT

#7	#8	#9	#10	#11	#12
INCORRECT	INCORRECT	CORRECT	CORRECT	INCORRECT	INCORRECT

與INTENSIVE PLAN A的
教授內容完全不同

PLAN Z 珠江三角洲區域研習

Regional Study of
Zhujiang(Pearl River) Delta

整全知識傳授 · 歷屆試題分析

1
對象

沒有報讀TITUS常規E4課程的考生

2
對象

校內考試E4題目表現不理想的考生

3
對象

唔識寫E4的ESSAY的考生

Regional Study of Zhujiang(Pearl River)Delta

珠江三角洲區域研習

難度：★★★★☆

題目創新度：★☆☆☆☆

E4

名校生都犯的謬誤

(欲知更多，堂上定必傾囊相授)

- 1 各階段工業發展的特徵
- 2 珠三角工業特徵的框架
- 3 各階段農業發展
- 4 農業生產模式的框架
- 5 各類跨境污染的分佈
- 6 各項控制污染措施的效度

派發

整全
精華筆記

歷屆試題
全集及
分析

SAMPLE
ESSAYS
由TITUS
親自編寫

Plan Z 珠江三角洲 區域研習

課程編號: G6GEO9TCZ
(4堂+1堂送堂 = 共5堂)

ONLINE VIDEO LEARNING
PLATFORM (ONL)

每堂視像教材，已經全數上載。
同學只須在取得筆記後，登入本校網站收看課堂。

\$860

符號 ONL = 全Online課堂(Online Video Learning Platform)並由Titus Chan提供視像教材。

整期4堂筆記可在報名分校領取。

由於筆記數量有限，如分校筆記已派完，同學可由報名日起約5日到報名分校取筆記，或申請順豐到付服務。詳情請向報名處查詢



(*詳情可到報名處查詢)